

Priloga 1:

Ivana Cankarja
Trbovlje

OBRAZEC - IZOBRAŽEVANJE NA DALJAVO

RAZRED: 5	ODDELEK: B	PREDMET: DRU	DATUM: 22. 5. 2020
-----------	------------	--------------	-----------------------


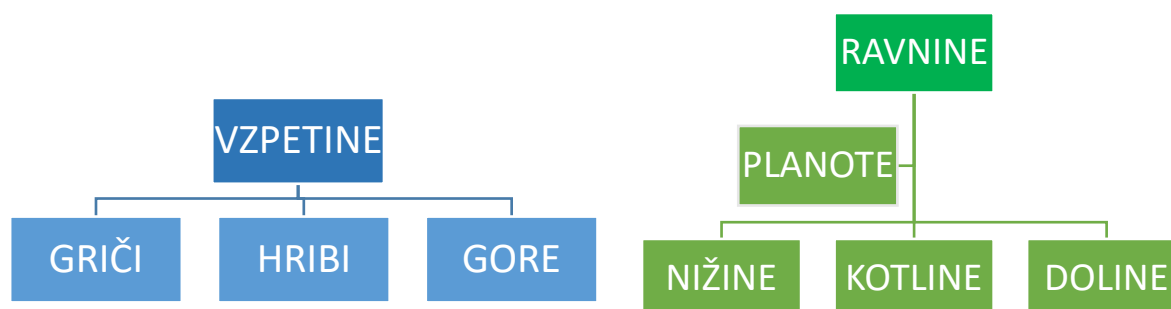
Navodila za delo:

1. Zemljevid je pomanjšan in poenostavljen prikaz Zemljinega površja na ravni podlagi. Zemljino površje pa je zelo raznoliko. Klikni na spodnjo povezavo in prisluhni razlagi.


<https://www.youtube.com/watch?v=HtFWt7WMCLl>

2. V učbeniku st. 29, 30, 32 preberi snov o oblikovanosti Zemljinega površja. Natančno si oglej tudi risbe.
3. V zvezek zapiši naslov **RELIEF**
4. Prepiši besedilo in preglednico. Reliefne oblike lahko tudi narišeš (risba spodaj). Preriši tudi vse skice.


1. RELIEF je izoblikovanost površja.



2. NADMORSKA VIŠINA pove, koliko je neka točka v navpični smeri oddaljena od morske gladine.



3. RELATIVNA VIŠINA pove, kolikšna je višinska razlika med dvema točkama – krajema.



4. Z zemljevida Slovenije prepisi nadmorsko višino Trbovelj.

Nadmorska višina Trbovelj je _____ .

5. Izračunaj relativno višino med Trbovljami in Kumom.

Relativna višina med Trbovljami in Kumom je _____ .

